



**Prefeitura
de Rolândia**



SECRETARIA MUNICIPAL DE EDUCAÇÃO

ATIVIDADES COMPLEMENTARES DE ESTUDO – COVID 19

22º ROTEIRO DE ATIVIDADES DE ESTUDO COVID 19.

ESCOLA MUNICIPAL GERALDA CHAVES TIRADENTES

ALUNO(a) _____ SALA DE RECURSO

COMPONENTES CURRICULARES: LÍNGUA PORTUGUESA MATEMÁTICA.

PERÍODO DE REALIZAÇÃO: 05/10/2020 à 09/10/2020

Senhores pais e responsáveis

Vocês estão recebendo as **Atividades Complementares de Estudo para o período de isolamento-COVID 19**. Necessito muito de sua participação para que essas atividades sejam realizadas pelo seu filho. Os senhores precisam organizar um tempo, em casa, para a realização das atividades e para que seu filho possa estudar com tranquilidade.

No roteiro a seguir estão as atividades e todas as orientações para sua execução. Tudo está descrito de forma simples. Mas se houver alguma dúvida podem entrar em contato pelo *Whatsapp*, estarei à disposição para ajudá-los.

O que vamos aprender? LÍNGUA PORTUGUESA: Leitura e escrita de frases, palavras e ortografia.

MATEMÁTICA: Situação problemas e gráfico.

Para que vamos aprender esses conteúdos? Realizar a leitura e a escrita de palavras e frases. Conhecer a ortografia.

Resolver situação problema. Interpretar gráfico. Desenvolver a atenção, concentração, discriminação visual.


Como vamos registrar esses conteúdos? Realizar nas folhas impressas ou no caderno.

1- LEIA O POEMA ABAIXO E SUBSTITUA AS FIGURAS POR PALAVRAS. DEPOIS ESCREVA ESSE POEMA AO LADO.

A CASA E SEU DONO


ESTA  É DE CACO.	<hr/> <hr/>
QUEM MORA NELA É O 	<hr/> <hr/>
ESTA  É DE CIMENTO.	<hr/> <hr/>
QUEM MORA NELA É O 	<hr/> <hr/>
ESTA  TEM TELHA.	<hr/> <hr/>
QUEM MORA NELA É A 	<hr/> <hr/>
ESTA  É DE LATA.	<hr/> <hr/>
QUEM MORA NELA É A 	<hr/> <hr/>
ESTA  É ELEGANTE.	<hr/> <hr/>
QUEM MORA NELA É O 	<hr/> <hr/>
DE REPENTE, DESCOBRI QUE NÃO FALEI EM CASA DE GENTE.	

Ortografia S ou SS

1. Observe as palavras abaixo. Depois, copie as frases substituindo  por S ou SS.

SÁBADO	COMPASSO	CASA	MESA
PÁSSARO	RECURSO	SERPENTE	PÊSSEGO

- a) Uma palavra não pode ser iniciada por .

- b) O  só pode ser usado entre vogais.

2. Escreva as palavras substituindo  por S ou SS.



 ERRA

A  EMBLEIA

 IMPLES

O  O

MA  A

TRAVE  EIRO

PO  TE

CONVER  A

 USPIRO

3- VAMOS ESTUDAR UM POUCO MAIS A NOSSA LÍNGUA PORTUGUESA.

VAMOS COMPLETAR AS PALAVRINHAS :



JANE__	TIJO__
MOE__	CANE__
JIBÓI__	TELEFO__
JACA__	CORU__
PIJA__	DOMI__
CAPACE__	JAVA__
NOVE__	NOI__
CADEA__	DETETI__
LÁ__	VE__

AGORA VAMOS ORDENAR AS SÍLABAS:

NA-NA-BA

CA-XI-A-BA

NE-NO-VE

NE-CA-BO

FO-NE-TE-LE

BE-LO-CA

TA-VI-MI-NA

E-CU-CA

A-NO-PI

LI-TO-PA

LI-PA-TO

NU-DO-CA

BO-LA-CE

JA-MA-PI

JO-LO-TI

1- PARA PENSAR, REFLETIR E RESPONDER.

LEIA COM ATENÇÃO, PARA NÃO ERRAR NA RESOLUÇÃO!

1. DURANTE A AULA DE MATEMÁTICA, A PROFESSORA CLÁUDIA EXPLICOU AOS SEUS ALUNOS QUE DURANTE O BANHO, UMA PESSOA GASTA APROXIMADAMENTE 9 LITROS DE ÁGUA A CADA MINUTO, COM MEIO REGISTRO ABERTO.

LEVANDO EM CONSIDERAÇÃO A INFORMAÇÃO DA PROFESSORA RESPONDA:

A) JULIANA DEMOROU OITO MINUTOS NO BANHO. QUANTOS LITROS DE ÁGUA ELA PODE TER GASTO?

B) PARA TOMAR BANHO, RAFAEL GASTOU APROXIMADAMENTE 72 LITROS DE ÁGUA. QUANTOS MINUTOS ELE PODE TER DEMORADO NO BANHO?


C) EM UM DIA DE VERÃO, SARA GASTOU CINCO MINUTOS PARA TOMAR BANHO DE MANHÃ, A NOITE ELA TOMOU OUTRO BANHO QUE DEMOROU 4 MINUTOS. QUANTOS LITROS DE ÁGUA SARA GASTOU NESTE DIA?

D) AGORA É COM VOCÊ. TOMANDO POR BASE A INFORMAÇÃO DA PROFESSORA CLÁUDIA. QUANTOS MINUTOS VOCÊ GASTA PARA TOMAR BANHO? E QUANTOS LITROS DE ÁGUA VOCÊ GASTA NO SEU BANHO?

2- DE OLHO NO GRÁFICO E RESPONDA AS PERGUNTAS.

REGISTRANDO

Observe o gráfico e veja o número de pessoas que compareceram à feira estadual de malhas em Curitiba, durante a semana, e depois responda:



- A) Em que dia houve mais visitantes? _____
- B) Qual foi o total de visitantes durante a semana? _____
- C) Quantos visitantes foram a mais no sábado que no domingo? _____
- D) Qual a diferença entre os totais de sexta-feira e segunda-feira? _____
- E) Quantas pessoas a mais teriam que ter visitado a feira na quarta-feira para ficar com o mesmo número de pessoas da terça-feira? _____
- F) Em qual dia a feira recebeu menos visitantes? _____